









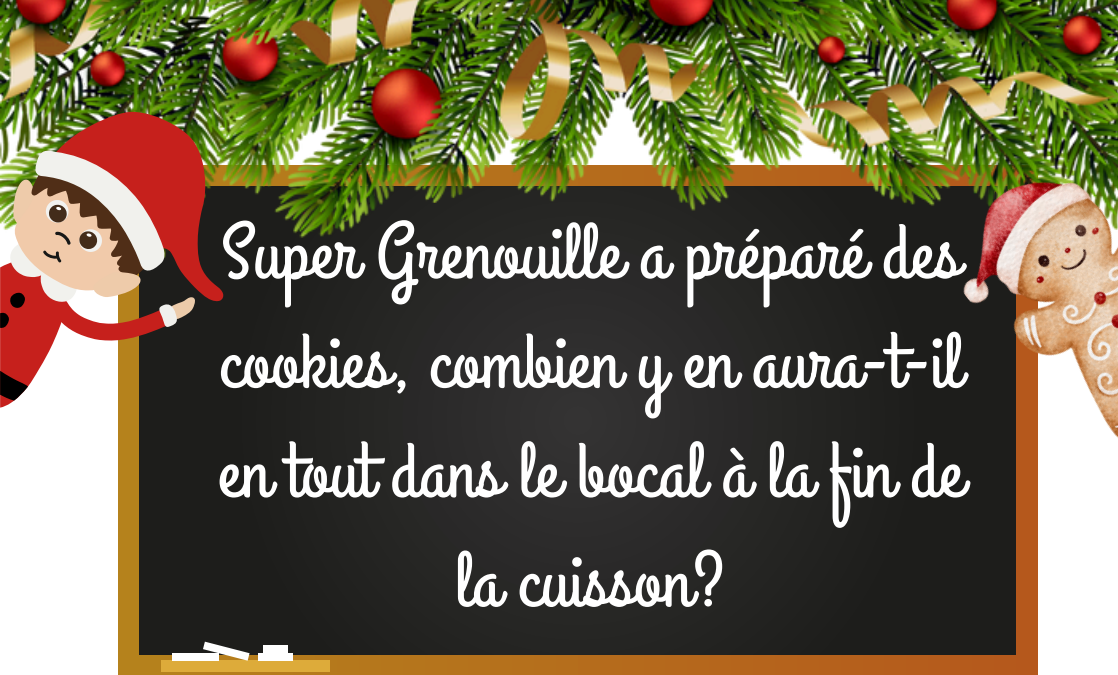
Peux-tu aider Super Ours à
mettre les sapins dans l'ordre
du plus petit au plus grand?






Super Lapin fabrique une
guirlande, quelle boule doit-il
prendre pour la continuer?







Super Grenouille et Super Lapin ont
fabriqué un bonhomme de neige
avec un cube et une pyramide, de
quelle couleur est son chapeau?





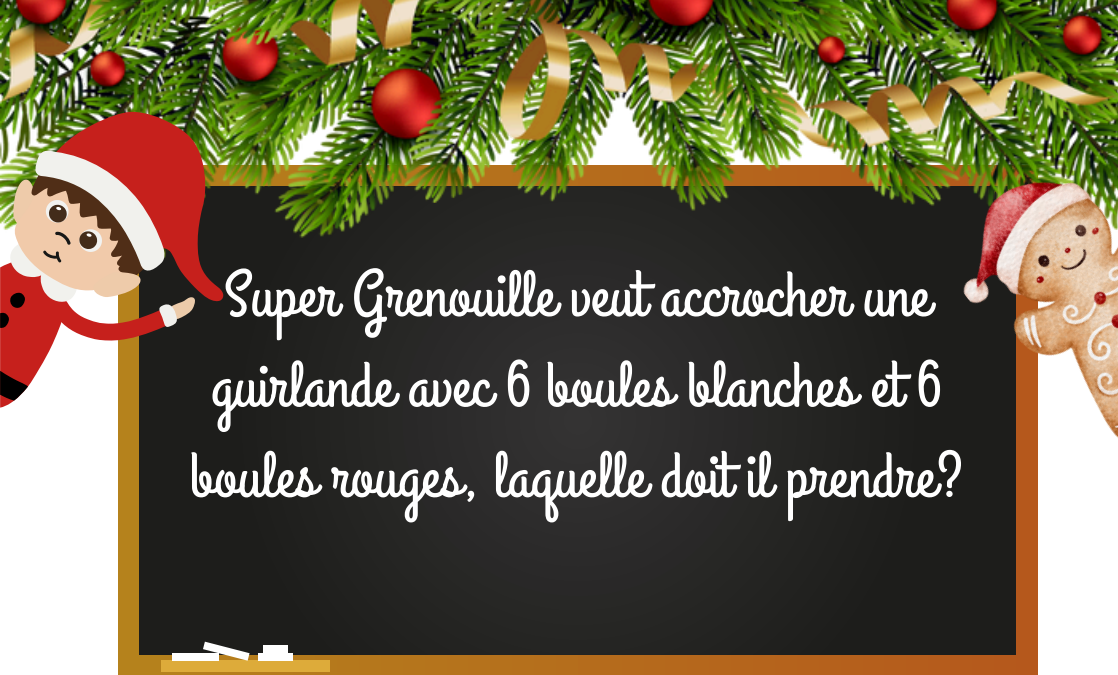
Siper Ours décore son sapin,
il doit prendre le carton avec 1
étoile, 4 boules et 2
guirlandes.






Super Ours a des sucres
d'orge, il veut en manger
deux, combien va-t-il en
rester ensuite?





Super Grenouille veut accrocher une guirlande avec 6 boules blanches et 6 boules rouges, laquelle doit il prendre?





Super Lapin a décoré le
deuxième sapin, de quelle
couleur est son étoile?






Super Ours veut acheter une
maison en pain d'épice, pour
la choisir il a lancé le dé,
quelle maison doit-il prendre?





En regardant les lettres, quel
Super a commandé le plus de
cadeaux?





Super Lapin veut acheter des
sucres d'orge, quel bocal
doit-il prendre?





Super Ours a préparé le
cadeau le plus gros de quelle
couleur est-il?





Super Grenouille veut acheter des carottes pour les rennes. Il veut prendre la cagette où il y a le plus de carottes, laquelle doit-il prendre?





Les Super ont décoré le sapin, qui a
mis la décoration du milieu?





Les Super ont fabriqué des guirlandes,
qui a réalisé la plus petite?





Super Ours a déjà mis des décorations
sur le sapin, Super Lapin va en
ajouter, combien de décorations y
aura-t-il en tout à la fin?






Super Grenouille aimerait prendre le
cadeau en forme de pyramide. Lequel
est-ce?





Les Super vont poster leur lettre au
Père Noël, qui va arriver le dernier à
la boîte aux lettres?





Super Ours a-t-il pris assez de
carottes pour les rennes?





Le Père Noël a apporté beaucoup de
cadeaux! Combien de cadeau(x) va
recevoir chaque Super?

